
目 录

2017 年成人高等学校招生全国统一考试	1
2018 年成人高等学校招生全国统一考试	7
2019 年成人高等学校招生全国统一考试	13
2020 年成人高等学校招生全国统一考试	21
2017 年成人高等学校招生全国统一考试——参考答案	29
2018 年成人高等学校招生全国统一考试——参考答案	31
2019 年成人高等学校招生全国统一考试——参考答案	33
2020 年成人高等学校招生全国统一考试——参考答案	35

2017 年成人高等学校招生全国统一考试

一、选择题：1~40 小题，每小题 2 分，共 80 分。在每小题给出的四个选项中，选出一项符合题目要求的。

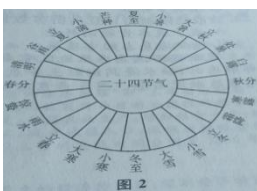
1. 战国时期出现的手工业技术专著是（ ）
A. 《尚书》 B. 《法经》 C. 《考工记》 D. 《墨经》
2. 煮盐业是秦汉时期重要的手工业，其中产于巴蜀地区的是（ ）
A. 池盐 B. 海盐 C. 井盐 D. 岩盐
3. 东晋时期的著名田园诗人是（ ）
A. 曹植 B. 陶渊明 C. 谢灵运 D. 王羲之
4. 图 1 中的农业生产工具出现于（ ）



- A. 东晋 B. 隋 C. 唐 D. 宋
5. 北宋初年，宋太祖为分割宰相行政权而增设的官职是（ ）
A. 参知政事 B. 枢密使 C. 中书令 D. 尚书令
6. 明中期的抗倭斗争中，在台州取得九战九捷重大胜利的将领是（ ）
A. 王阳明 B. 戚继光 C. 俞大猷 D. 郑成功
7. 英国挑起第二次鸦片战争的借口是（ ）
A. 虎门销烟 B. 马神甫事件 C. 亚罗号事件 D. 镇南关大捷
8. 在洋务运动中，洋务派打出的旗号是（ ）
A. 自强求富 B. 君主立宪 C. 民主共和 D. 民主科学
9. 国共两党实现第一次合作，建立革命统一战线的标志是（ ）
A. 孙中山在《民报》发刊词上阐发三民主义
B. 中国共产党第三次全国代表大会
C. 中国国民党第一次全国代表大会
D. 北伐战争爆发
10. 在解放战争中，人民解放军开始战略反攻的标志是（ ）
A. 百团大战 B. 千里跃进大别山 C. 辽沈战役 D. 渡江战役
11. 经过严重的经济困难，到 1964 年底，我国经济取得全面好转，这依赖于（ ）
A. 中共八大的正确路线 B. 人民公社化运动展开
C. 全面调整国民经济的政策 D. 改革开放的正确指导方针
12. 下列属于 1980 年我国在沿海地区首批设立的经济特区是（ ）
A. 深圳 B. 浦东 C. 香港 D. 海南

- 13.但丁被称为“中世纪的最后一位诗人，新世纪的最初一位诗人”，其代表作是（ ）
 A.《神曲》 B.《十日谈》 C.《君主论》 D.《巨人传》
14. 下列选项中，属于马克思主义理论直接来源的是（ ）
 A. 人文主义思想 B. 三权分立学说
 C. 天赋人权思想 D. 英法空想社会主义学说
15. 1882 年，指挥埃及人民英勇抵抗英军侵略的军官是（ ）
 A. 马赫迪 B. 阿拉比 C. 孟尼利克二世 D.蒂博尼哥罗
16. 根据美国《1787 年宪法》，拥有最高军事指挥权的是（ ）
 A. 总统 B. 最高大法官 C. 参议院议长 D. 众议院议长
17. 在德意志统一的进程中，俾斯麦发动王朝战争，击败的对手不包括（ ）
 A.法国 B. 丹麦 C. 奥地利 D. 俄国
18. 20 世纪 30 年代的罗斯福新政对资本主义世界产生的影响是（ ）
 A. 改变了资本主义制度的本质 B. 开创了国家干预经济发展的新模式
 C. 根除了资本主义的经济危机 D. 消除了经济危机对美国的严重破坏
- 19.第二次世界大战期间，几十万英法军队转移到英国，为未来的反攻保存了有生力量的事件是（ ）
 A. 诺曼底登陆 B. 易北河会师 C. 西西里岛登陆 D. 敦刻尔克撤退
20. 20 世纪五六十年代，日本经济得以迅速发展原因不包括（ ）
 A. 消除生产关系的封建落后因素 B. 美国军事及后勤物资订货的刺激
 C. 制定了外向型的发展战略 D. 获得马歇尔计划提供的经济援助

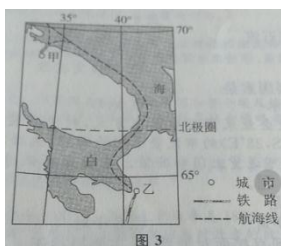
早在秦汉时期，中中国先民通过观察太阳周年运动，认知一年中时令、气候、物候等方面的变化规律，将一年划分为“二十四节气”（如图 2 所示）。2016 年 11 月中国“二十四节气”申遗成功，列入人类非物质文化遗产代表作名录。据此完成 21~23 题。



21. 中国“二十四节气”起源于（ ）
 A. 辽河流域 B. 黄河流域 C. 长江流域 D. 珠江流域
22. “二十四节气”的每一节气约为（ ）
 A. 5 天 B. 9 天 C. 15 天 D. 30 天

23. 在我国北方大部分地区，至今还遵循着“白露早，寒露迟，秋分种植正当时”的农谚，其中“种植”的农作物是（ ）

- A. 春小麦 B. 玉米 C. 冬小麦 D. 水稻



冰岛雷克雅未克（ $64^{\circ} 09' N$ ， $21^{\circ} 58' W$ ）驶向甲、乙港口的海上运输线曾是“二战”期间同盟国重要的军事物资补给线。图3示意该补给线的部分航线。据此完成24~26题。

24. 由冰岛出发驶向甲港口，主要航向为（ ）

- A. 东北 B. 西北 C. 东南 D. 西南

25. 甲、乙港口气温存在差异，甲港口1月平均气温高于乙港口，其主要影响因素为（ ）

- A. 纬度 B. 洋流 C. 地形 D. 季风

26. 由乙港口通往南部某重要城市的铁路长1000多千米，该铁路沿线地区（ ）

①分布着波状起伏的沙漠②冬季易受寒潮天气影响③分布着较茂密的针叶林④春季易遭受沙尘暴侵袭

- A. ①② B. ②③ C. ③④ D. ①④

鼓浪屿位于福建省东南沿海，是岩浆活动形成的海岛。海岛上保存有许多18世纪欧美风格的建筑，有“万国建筑博览会”之称。图4为岛上日光岩石蛋景观。据此完成27~29题。



27. 构成日光岩景观的岩石类型是（ ）

- A. 砂岩 B. 石灰岩 C. 大理岩 D. 花岗岩

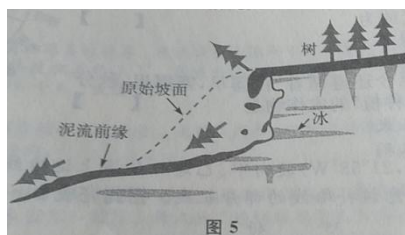
28. 鼓浪屿是世界文化遗产地，其价值主要体现在（ ）

- A. 地貌类型独特 B. 海上丝绸之路的起点
C. 生物多样性 D. 多元文化交融

29. 鼓浪屿限制每日登岛游客数量，主要是为了（ ）

- A. 减少淡水资源消耗 B. 营造和谐旅游环境
C. 保护海岛上的古建筑 D. 保护海岛大气环境质量

冻融泥石流是冻土地区重要的物质运移和地貌作用过程。一般发生在斜坡上。当冻土层上部解冻时，融水浸润细粒土等表层物质，在重力的作用下，上部土体沿着冻融界面向下缓慢移动，成冻融泥石流。图 5 示意冻融泥石流。据此完成 30~31 题。



30. 与降雨泥石流相比，冻融泥石流（ ）
- A. 移动速度慢 B. 形成规模大 C. 破坏力极强 D. 多为突发性
31. 导致冻融泥石流发生的首要因素是（ ）
- A. 气温 B. 降水 C. 地形 D. 植被

近年来，东莞有数万家制造企业采用跨境电商方式，利用集装箱货柜将商品送达世界各地。例如，一位南非约翰内斯堡（26° S，28° E）的市民登录购物网站，选择东莞某企业制造的家具并完成支付；一个多月后当地经销商即可送货上门和安装。跨境电商促进了东莞从“世界工厂”向“世界商店”的转型。据此完成 32~34 题。

32. 约翰内斯堡和东莞的区时差是（ ）
- A. 12 小时 B. 10 小时 C. 8 小时 D. 6 小时
33. 东莞的制造企业从代工生产到直接面对消费者，主要得益于（ ）
- A. 外来劳动力数量多 B. 政府政策支持 C. 网络销售平台 D. 广告宣传
34. 东莞制造业转型对当地地理环境的直接影响是（ ）
- A. 城市水环境改善 B. 城市空气质量改善
- C. 城市竞争力增强 D. 城市科技和教育水平提升

非洲萨赫勒地区荒漠化严重，非洲联盟成员国希望通过实施“绿色长城”计划，来遏制撒哈拉沙漠扩张。

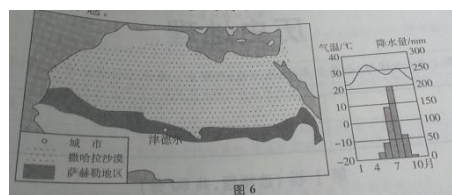
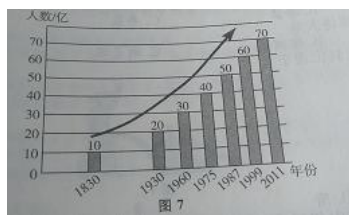


图 6 示意萨赫勒地区范围和尼日尔南部城市津德尔（130° 48' N， 80° 59' E）的气温和降水分布。据此完成

- 35~37 题。
35. 萨赫勒地区的降水主要集中在（ ）
- A. 1-3 月 B. 4-6 月 C. 7-9 月 D. 10-12 月
36. 荒漠化给萨赫勒地区带来的危害是（ ）
- A. 土地盐碱化 B. 林地变成草原 C. 沙尘暴增加和食物短缺 D. 降水量减少
37. 中国支持非洲“绿色长城”计划的可行措施是提供（ ）
- A. 茶树种苗 B. 海水淡化和调水技术 C. 种牛和种羊 D. 防御荒漠化科技培训

世界人口总量在增长。图 7 示意世界人口每增加 10 亿所用的时间。据此完成 38~40 题。



38. 图示世界人口总量的变化，直接反映了 ()
- A. 人口自然增长的变化 B. 人口机械增长的变化 C. 人口密度发生的变化 D. 人口平均年龄的变化
39. 据图推测，世界人口达到 80 亿的年份可能是 ()
- A. 2020 年 B. 2023 年 C. 2026 年 D. 2029 年
40. 世界人口分布不均，其中一半以上的人口分布在 ()
- A. 非洲 B. 南美洲 C. 北美洲 D. 亚洲

二、非选择题：41~45 小题，共 70 分。

41. 回答问题。(12 分)

简述魏晋南北朝和隋唐时期我国江南地区农业的发展。

42. 阅读材料，回答问题。(12 分)

材料 工业化的速度首先决定于重工业的发展，因此我们必须以发展重工业为大规模建设的重点。首先保证重工业和国防工业的基本建设，特别是确保那些对国家起决定作用的，能迅速增强国家工业基础与国防力量的主要工程的完成。我们必须在五年内基本上完成鞍钢等大工业基地的建设，并开始新的工业基地的建设，以此来发展我国的五金、燃料、机械、电力工业与国防工业，使 1957 年的工业生产比 1952 年提高一倍到一倍半。

——摘编自《中共中央关于编制一九五三年计划及五年建设计划纲要的指示》

概括我国实施第一个五年计划的基本任务，并简要评价。

43. 阅读材料，回答问题。(11 分)

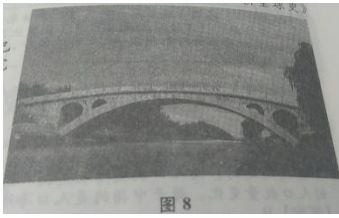
材料 1919 年，战胜国在巴黎召开和会，安排战后和解，对战败国加以限制。威尔逊的战后设想，成为推动战败国宣布接受所谓的“十四点”建议作为停战的基础。协约国不允许同盟国代表参加，他们还威胁，如果提出的条件不被接受的话，就重新开战。最后形成的条约体现了战胜国之间的一系列妥协。

——摘编自杰里·本特利等《新全球史》

概述美、英、法、日四国在巴黎和会上的不同目的。

44. 阅读图文材料，完成下列要求。(18分)

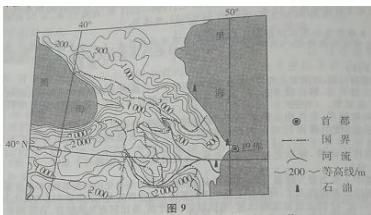
赵州桥又称安济桥(见图8)，始建于隋朝，距今已有1400多年的历史，是世界上现存最早和保存最完整的石拱桥。赵州桥桥长50多米，宽9米多，横跨在河北省赵县汶河(属于海河流域)上。



- (1) 汶河水位季节变化大，试说明原因。(6分)
- (2) 简述赵州桥左右两边小桥洞的作用。(6分)
- (3) 提出保护赵州桥这座古建筑的措施。(6分)

45. 阅读图文材料，完成下列要求。(17分)

阿塞拜疆地处高加索地区的东部，是我国“一带一路”建设的重要合作国家。图9示意高加索地区地形。



- (1) 阿塞拜疆首都巴库车冬季温暖，全年降水偏少，试说明原因。(4分)
- (2) 推测巴库的主要工业部门。(4分)
- (3) 近年来，中国与阿塞拜疆的经济合作进一步加强。分析阿塞拜疆吸引中国投资者的优势条件。(9分)

2018 年成人高等学校招生全国统一考试

一、选择题：1~40 小题，每小题 2 分，共 80 分。在每小题给出的四个选项中，选出一项符合题目要求的。

- 西周统治者为了巩固统治，在政治上推行（ ）
A. 郡县制 B. 分封制 C. 井田制 D. 均田制
- 秦朝统一中国后，出台了一系列旨在加强中央集权的政策措施，属于经济措施的是（ ）
A. 修建驰道 B. 统一货币 C. 焚书坑儒 D. 以吏为师
- 公元 494 年，北魏统治者为了加强对中原的控制，将都城迁至（ ）
A. 长安 B. 开封 C. 洛阳 D. 平城
- 隋炀帝在位时，多地发生农民起义，其中由翟让、李密领导的起义军称（ ）
A. 黄巾军 B. 红巾军 C. 瓦岗军 D. 太平军
- 文学史上，元曲是与唐诗、宋词并称的文学形式。下列作品属于元曲的是（ ）
A. 《蜀道难》 B. 《钗头凤》 C. 《窦娥冤》 D. 《长恨歌》
- 雍正皇帝设立军机处的直接目的是（ ）
A. 加强君主的权力 B. 削弱宰相的权力
C. 强化满洲贵族的特权 D. 压制汉族官员的势力
- 《南京条约》规定中国开放的通商口岸主要分布在（ ）
A. 珠江沿岸地区 B. 长江沿岸地区
C. 长江口以北沿海地区 D. 长江口以南沿海地区
- 魏源提出“师夷长技以制夷”的思想，其中“长技”是指西方的（ ）
A. 政治体制 B. 思想文化 C. 科学技术 D. 经济制度
- 1911 年 10 月 10 日晚，武昌城内新军工程营首先起义的革命党人是（ ）
A. 孙中山、黄兴 B. 蒋翊武、孙武
C. 黎元洪、刘复基 D. 熊秉坤、金兆龙
- 在长征途中，事实上确立了以毛泽东为核心的党中央的正确领导的会议是（ ）
A. 八七会议 B. 遵义会议 C. 中共七大 D. 中共七届二中全会
- 图 1 是中华人民共和国代表团首次出席联合国大会的照片，此次会议时间是（ ）
A. 1949 年 B. 1971 年 C. 1978 年 D. 1981



- “双百方针”是中国共产党发展科学文化的一项基本方针，下列在这一方针指引下出现的文学作品是（ ）
A. 《日出》 B. 《雷雨》 C. 《子夜》 D. 《茶馆》
- 在 15 世纪末，最早支持开辟新航路的国家是（ ）
A. 西班牙、葡萄牙 B. 英国、荷兰

C. 意大利、葡萄牙 D. 西班牙、荷兰

14. 文艺复兴时期，猛烈震撼了科学界和思想界，动摇了封建神学基础的学说是（ ）

A. 地球中心说 B. 太阳中心说 C. 广义相对论 D. 自由落体定律

15. 将法国的封建专制制度推向顶峰的国王是（ ）

A. 路易十四 B. 彼得一世 C. 腓特烈二世 D. 路易十六

16. 掀起了拉丁美洲独立运动的序幕，并成为拉丁美洲的第一个独立国家的是（ ）

A. 墨西哥 B. 哥伦比亚 C. 海地 D. 委内瑞拉

17. 20 世纪一二十年代，“又使中国回复到几个帝国主义国家共同支配的局面”的条约是（ ）

A. 《四国公约》 B. 《九国公约》 C. 《五国海军条约》 D. 《凡尔赛条约》

18. 十月革命胜利后，为应对严峻的国际形势，巩固新生的无产阶级政权，苏维埃政府采取的措施包括（ ）

A. 优先发展重工业 B. 废除教会一切特权
C. 全面推行农业集体化 D. 实施战时共产主义政策

19. 巴黎和会前，美国总统威尔逊提出“十四点原则”，根本目的在于（ ）

A. 维护战后世界和平 B. 攫取战后世界霸权
C. 维持欧洲大陆均衡 D. 惩罚与削弱德国

20. 20 世纪七八十年代，欧洲共同体在处理与苏联和东欧各国的关系上有别于美国，认为应发挥西欧技术、资金优势来维持和平局面，减少战争危险。这表明（ ）

A. 西欧的独立自主倾向日益加强 B. 美国已经失去了世界霸主地位
C. 冷战的紧张对峙局面已经结束 D. 西欧与美国出现意识形态分歧

中国“文房四宝”包括笔、墨、纸、砚。湖笔（见图 2）诞生于浙江湖州，在元朝以前就闻名于世。湖笔为纯手工制作，制作工艺十分复杂。湖州山区的鸡毛竹是制作笔杆的主要原料，其特点是节稀杆，竹内空隙较小。目前，湖笔产业借力“互联网+”和特色小镇建设，实施“走出去”战略，积极开拓市场。据此完成 21~23 题。



21. 湖州发展毛笔产业、传承优秀地域文化的优势是（ ）

A. 交通运输便利 B. 生产工艺精湛 C. 劳动力丰富 D. 当地市场广大

22. 如果是就近取材，用于制作湖笔笔杆的鸡毛竹应该生长在（ ）

A. 天目山山麓地区 B. 梵净山山麓地区 C. 神农架山麓地区 D. 武夷山山麓地区

23. 目前，湖笔产业加大实施“走出去”的战略，其产品销售重点考虑的国家有（ ）

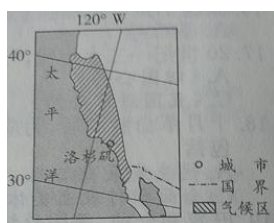
A. 法国、爱尔兰 B. 埃及、以色列 C. 日本、新加坡 D. 墨西哥、古巴



2015年3月26日，也门安全局势突然恶化，600多名中国公民受困也门。3月26日深夜，在附近海域执行任务的中国海军护航编队接到任务，从也门荷台达港和亚丁港撤侨到吉布提港（位见图3）。4月2日，编队完成撤侨任务，去并协助巴基斯坦等国公民撤离。据此完成24~26题。

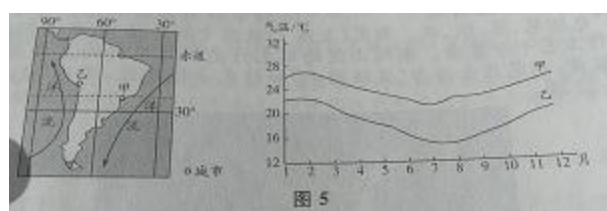
24. 中国舰船将受困人员从荷台达港转移到吉布提港，通过的海峡是（ ）
- A. 曼德海峡 B. 马六甲海峡 C. 英吉利海峡 D. 霍尔木兹海峡（ ）
25. 荷台达港到吉布提港的直线距离接近（ ）
- A. 150千米 B. 220千米 C. 400千米 D. 660千米
26. 吉布提港位于北京（39°N，116°E）的（ ）
- A. 东南方向 B. 西北方向 C. 东北方向 D. 西南方向

地处太平洋沿岸地中海气候类型区（图4阴影所示）的洛杉矶，近年来干旱程度加剧。为了确保城市居民用水，在降水稀少季节，市政部门陆续在大型水库中投入数千万个苹果大小的黑色心塑料遮阳球。据此完成27~29题。



27. 洛杉矶市政部门在大型水库中投放遮阳球的适宜时间是（ ）
- A. 2月 B. 4月 C. 7月 D. 11月
28. 向水库投放黑色塑料遮阳球，覆盖整个水库表面。此举措（ ）①可减少阳光与水库水面的接触面积 ②反射阳光，增加水库水体温度 ③可控制藻类的大量繁殖，保护水质 ④成本较低，可避免产生光污染
- A. ①②③ B. ①③④ C. ①②④ D. ②③④
29. 长期以来，该城市在建筑设施等多方面重点防御的自然灾害是（ ）
- A. 龙卷风 B. 强烈地震 C. 泥石流 D. 强沙尘暴

图5示意甲、乙两个海滨城市温变化。据此完成30~32题。



30. 甲、乙两地都位于（ ）
- A. 西半球和南半球 B. 东半球和南半球 C. 西半球和北半球 D. 东半球和北半球
31. 甲、乙两地相比（ ）
- A. 甲地气温年较差大 B. 两地春季气温相近
- C. 甲地年平均气温高 D. 乙地夏季气温比甲地冬季气温低
32. 甲、乙两地纬度位置相近，但气温差异较大。主要影响因素是（ ）
- A. 海拔差异 B. 年降水量差异 C. 大气环流 D. 洋流

A. 华南台风增多 B. 东北降水增多 C. 西南降水偏少 D. 华北降水偏少

二、非选择题：41~45 小题，共 70 分。

41. 回答问题。（11）分，

简述两汉时期我国医学发展取得的主要成就及其历史地位。

42. 阅读材料，回答问题。（12 分）

材料 我们开放了十四个沿海城市，都是大中城市。我们欢迎外资，也欢迎外国先进技术，管理也是一种技术。这些会不会冲，们的社会主义呢？我看不会的。因为我国是以社会主义收外国经济为主体的。社会主义古社会主义的经济基础很大，吸收几百亿、上千亿外资，冲击不了这个基础。吸收外国资金肯定可以作为我国社会主义建设的重要补充。

——邓小平《建设有中国特色的社会主义》（1984 年 6 月）

概述十一届三中全会以后我国对外开放局面的形成。

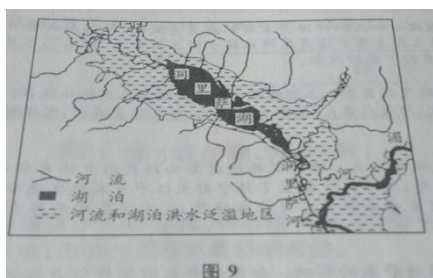
43. 阅读材料，回答问题。（12 分）

材料 在 19 世纪初，以普鲁士为首的许多邦已经对封建农奴制进行了改革，废除农民对地主的人身依附关系，允许农民赎买与土地有关的封建义务。在五六十年代，德意志的经济有了长足的发展，全德出现了工业建设的热潮。普鲁士的工业走工厂生产的大炮，更是出地区的工业居全德首位。工业生产与军工业生产与军事工业的发展全德出现了工业建设的热潮。普鲁士的工业走在最前面，鲁尔、西里西亚及萨尔等地区的工业居全德首位。工业生产与军事工业的发展密切相连，鲁尔工厂生产的大炮，更是出于军事上的需要。普鲁士拥有欧洲最强大的陆军，军队训练有素，有铁的纪律，因而战斗力很强。俾斯麦始终坚持，应由普鲁士来完成德国统一。

——刘祚昌、王觉非主编《世界史，近代史编》下卷

概述普鲁士统一德意志的有利条件并分析其影响。

44. 阅读图文材料，完成下列要求。（17 分）



材料一 洞里萨湖是东南亚最大的淡水湖泊，通过洞里萨河同湄公河相连（见图 9），有湄公河的“天然蓄

水池”之称。丰水期，吃水 4 米左右的船只可以通过河流到达湖区周围地区，水运便捷。

材料二 雨季（6-10 月）来临时，湄公河水位上涨，河水经洞里萨河流入洞里萨湖，湖泊水深可达 10 米，湖面超过 1 万平方千米；旱季（11-5 月）湖泊水深约 1 米，湖水经洞里萨河流入湄公河。

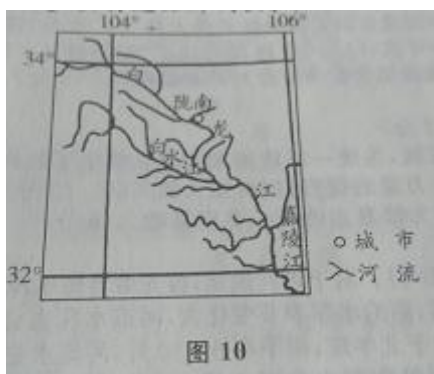
- (1) 指出洞里萨湖地区适合通航的时间，并说明原因。（6 分）
- (2) 分析沿湖的民居以高架木屋为主的原因。（5 分）
- (3) 归纳洞里萨湖地区发展水稻种植有利自然条件。（6 分）

45. 阅读图文材料，完成下列要求。（18 分）

材料一 油橄榄原产于地中海沿岸。甘肃陇南是我国油橄榄优势产区，主要分布在白龙江、白水江的干旱河谷地带（图 10）。这里属亚热带气候，冬温较高。

材料二 油橄榄种植园适宜建在：坡度不大、工程量小、土层较厚，有一定水利条件的荒山荒坡；或者土层厚，面积大，虽无水利条件，但可集雨节灌的荒山荒坡；或者粮食产量不高，但有灌溉条件的农田或撂荒地。

材料三 日前该地对油橄榄种植的主要问题是植株分散、单产不高。为改变这种状况，当地积极推广集中连片式油橄榄种植园建设，打造品牌，提高单位面积产量。



- (1) 简述地中海气候的主要特点。（6 分）
- (2) 分析陇南发展油橄榄种植有利和不利的自然条件。（6 分）
- (3) 试说明该地发展集中连片式种植园开发模式的优势。（6 分）

2019 年成人高等学校招生全国统一考试

一、选择题：1~40 小题，每小题 2 分，共 80 分。在每小题给出的四个选项中，选出一项符合题目要求的。

1. 图 1 是我国发行的先秦时期两种货币的纪念邮票，这两种货币的相同之处是（ ）

- A. 材质
- B. 功能
- C. 产地
- D. 工艺



图 1

2. 秦朝建立了比较完备的国家治理体系，御史大夫的主要职责是（ ）

- A. 管理军队
- B. 主理财政
- C. 处理民族事务
- D. 监察百官

3. 我国历史上产生过许多关于山川地理的著作，北魏地理学家郦道元的著作是（ ）

- A. 《禹贡地域图》
- B. 《水经注》
- C. 《梦溪笔谈》
- D. 《天下郡国利病书》

4. 隋朝时，我国建筑水平显著提高，著名建筑师宇文恺的主要历史贡献是主持营建（ ）

- A. 阿房宫
- B. 赵州桥
- C. 大兴城和洛阳城
- D. 云冈石窟和龙门石窟

5. 元朝设立的管辖西藏地区的专门机构是（ ）

- A. 中书省
- B. 枢密院
- C. 尚书省
- D. 宣政院

6. 1581 年，明朝内阁首辅张居正改革赋役制度，实行“一条鞭法”，其主要内容是（ ）

- A. 以征收实物为主
- B. 实行“三十税一”
- C. 以绢代役
- D. 合并赋、役，统一征银

7. 林则徐被称为近代中国“开眼看世界”的第一人，主要是因为他（ ）

- A. 认识到清政府的腐败
- B. 积极了解西方
- C. 对英国的情况了如指掌
- D. 抵抗外来侵略

8. 图 2 反映出（ ）

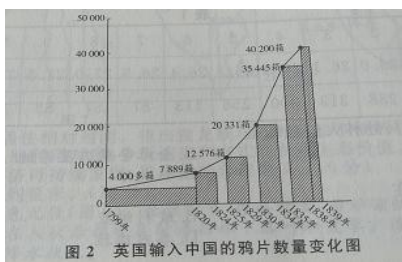


图 2 英国输入中国的鸦片数量变化图

- A. 英国输入中国的鸦片激增 B. 中国采取严禁鸦片的政策
C. 中国放弃对鸦片贸易的限制 D. 英国将中国变为半殖民地
9. 五四运动是中国近代史上一次彻底的反帝反封建的爱国运动，这一运动爆发的直接原因是（ ）
A. 日本割占台湾 B. 八国联军侵华
C. 巴黎和会外交失败 D. 九一八事变
10. 毛泽东的诗句“金沙水拍云崖暖，大渡桥横铁索寒”所反映的历史事件是（ ）
A. 北伐战争 B. 皖南事变
C. 红军长征 D. 淮海战役
11. 第一汽车制造厂、沈阳第一机床厂、武汉长江大桥的建成是在（ ）
A. 国民经济恢复时期 B. 抗美援朝期间
C. “一五”计划期间 D. 改革开放时期
12. 作出把党和国家的工作重心转移到经济建设上来，实行改革开放伟大决策的会议是（ ）
A. 中共七届二中全会 B. 中共八大
C. 中共十一届三中全会 D. 中共十四大
13. 新航路开辟后，意大利的商业地位下降，欧洲贸易中心转移到（ ）
A. 地中海沿岸 B. 大西洋沿岸
C. 黑海沿岸 D. 太平洋沿岸
14. 15 世纪末开始，西班牙、葡萄牙殖民者对美洲进行殖民侵略的直接后果是（ ）
A. 土著居民种族几乎灭绝 B. 引发工业革命
C. “日不落”殖民帝国兴起 D. 宗教改革完成
15. 17 世纪，欧洲自然科学发展迅速，其中著名科学家波义耳的主要成就是（ ）
A. 把严密的实验方法引入化学 B. 创立“太阳中心说”
C. 提出万有引力和质量守恒定律 D. 发现元素周期律
16. 19 世纪中期，美国为发展资本主义，兴起“西进运动”，在此过程中（ ）
A. 世界性的经济危机爆发 B. 种族歧视现象彻底消除
C. 第一次世界大战期间，致使德军诒 D. 大量印第安人遭到屠杀
17. 第一次世界大战期间，致使德军速决战计划破产的战役是（ ）
A. 滑铁卢会战 B. 马恩河战役
C. 诺曼底登陆 D. 莫斯科保卫战
18. 1938 年德国吞并奥地利后，又对捷克斯洛伐克提出领土要求。英国和法国仍对德国采取绥靖政策，其原因在于（ ）
A. 希望德国把侵略矛头转向苏联 B. 支持德苏签订《互不侵犯条约》
C. 阻止德、意、日三国轴心的形成 D. 极力维护捷克斯洛伐克的利益
19. 20 世纪 40 年代后期，最先摆脱苏联模式束缚，走上独立自主的社会主义建设道路的国家是（ ）
A. 古巴 B. 南斯拉夫
C. 波兰 D. 匈牙利

20. 1969年7月，美国总统尼克松在关岛谈到了美国对亚洲和太平洋地区的政策，即所谓的“尼克松主义”，其核心思想是（ ）

- A. 加强对亚洲国家的控制
- B. 继续与苏联进行全球对抗
- C. 强化对第三世界的争夺
- D. 由战略进攻转为战略收缩

8月31日至9月15日，比赛分别在中国的北京、广州、南京、上海、武汉、深圳、佛山、东莞这八座城市举行。据此完成21-23题。

21. 举办城市最多的省级行政区域的简称是（ ）

- A. 京
- B. 苏
- C. 鄂
- D. 粤

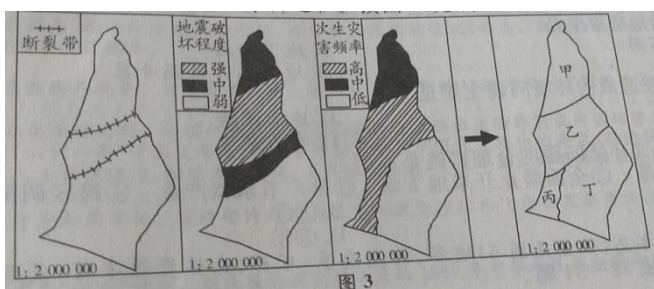
22. 正在首尔（采用东九区区时）旅游的一位游客要观看开幕式实况转播，开幕式开始时的当地时间是（ ）

- A. 19:00
- B. 20:00
- C. 21:00
- D. 22:00

23. 住在武汉的一位篮球爱好者要去广州（天气预报有雷雨）观看比赛，选择最快捷的交通工具是（ ）

- A. 飞机
- B. 高铁
- C. 摩托车
- D. 长途汽车

图3示意某城市地震灾后重建选址分析过程。读图3，完成24~25题。



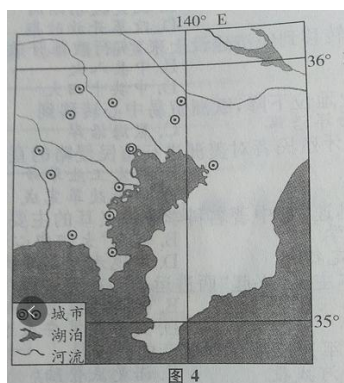
24. 该地最长断裂带的图上长度约1.5厘米，其实际长度约为（ ）

- A. 300千米
- B. 30千米
- C. 20千米
- D. 3千米

25. 从地质安全考虑，图示甲、乙、丙、丁四个区域中，最适宜城市重建的是（ ）

- A. 甲
- B. 乙
- C. 丙
- D. 丁

湾区是由一个海湾或若干个相连的海湾、港湾、邻近岛屿共同组成的区域。随着经济全球化，部分湾区已成为全球经济发展重要的增长极和技术变革的领头羊。图 4 示意世界某著名湾区。据此完成 26~28 题。



26. 图示湾区核心城市是 ()

A. 纽约 B. 物产丰富

C. 该湾区发展壮 D. 上海

27. 该湾区发展壮大的主要有利条件是 ()

A. 水源充足 B. 物产丰富

C. 农业发达 D. 交通便利

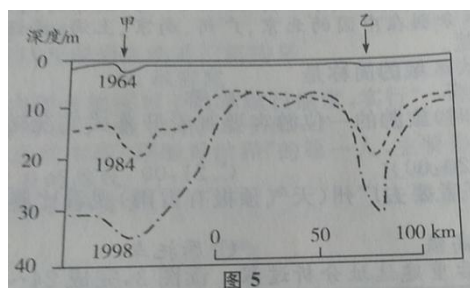
28. 我国粤港澳大湾区要发展成为世界性的大湾区，应该采取的措施是 ()

A. 调整产业结构 B. 改善城市环境

C. 缩小城乡差别 D. 抵御台风灾害

图 5 示意华北地区甲、乙两城市间 1964—1998 年地下水埋藏深度变化 (图中数字表示年份)。

读图 5，完成 29~31 题。



29. 图 5 反映的地理事象是 ()

A. 喀斯特溶洞 B. 地下暗河

C. 海水倒灌 D. 地下水开采漏斗区

30. 图示地理事象造成的环境问题主要是 ()

A. 土壤沙化 B. 地面沉降

C. 土壤污染 D. 水土流失

31. 能够缓解该地区环境问题的合理措施是 ()

①农田大水漫灌 ②全面禁止开采地下水 ③推广节水型产业 ④跨区调配水资源

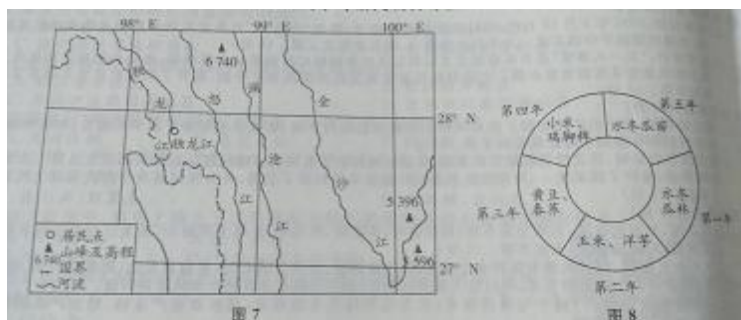
A. ①② B. ①③

美国以不同的体制和不同的速都向前发展着，从而在这个国家内部孕育着一种不可抑制的冲突突。它最终对美国的历史进程发生了深远的影响，构成美国建国以来的历史转折点。

-----罗荣渠《美国历史通论》

概述美国南北战争爆发的原因及影响。

44. 阅读图文材料，完成下列要求。(17分)

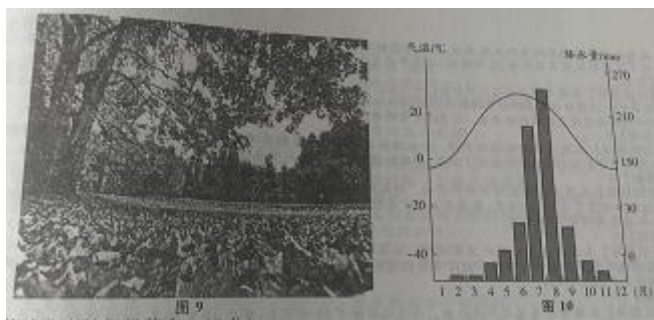


独龙族聚居的独龙江流域（图7）自然资源丰富，被称为“野生生物天然博物馆”。新中国成立前，独龙族农业生产以刀耕火种为主。水冬瓜地农业生产是独龙族传统农耕文化中最有特色的一种生产土方式。水冬瓜是一种亚热带落叶阔叶树，生长快，落叶量大，喜光喜湿，固氮能力强。图8示意独龙族水冬瓜地的土地利用时序。新中国成立后，独龙族从原始社会直接过渡到社会主义社会。进入21世纪，国家对该民族实行重点扶持，目前该族已整族脱贫。

- (1) 独龙族人口较少，居住相对封闭。指出独龙族与外界联系不便的原因。(5分)
- (2) 根据图8示意的土地利用时序，分析该生产方式的农业生态价值。(6分)
- (3) 为了促进独龙族经济可持续发展，提出你的合理建议。(6分)

45. 阅读图文材料，完成列要求。(18分)

北京四季分明，秋色尤佳（图9）。金秋时节，银杏叶黄，黄栌染红，令人感怀。因为华北春秋多大风，公园和景区在入秋后都要及时清扫林下落叶和荒草。这也让一些游客觉得遗憾。图10示意北京气温和降水状况。



- (1) 简述北京的气候特点。(6分)
- (2) 指出北京森林景观的季节差异, 并说明原因。(6分)
- (3) 有人建议园林管理部门在人秋后合理保留落叶和荒草。你是否赞成, 请表明态度, 并说明理由。(6分)

2020 年成人高等学校招生全国统一考试

一、选择题：1~40 小题，每小题 2 分，共 80 分。在每小题给出的四个选项中，选出一项符合题目要求的。

1. 20 世纪 90 年代初，帝国主义在非洲的殖民体系最终崩溃。与拉丁美洲相比，第二次世界大战后非洲的民族独立运动的不同之处是【 】

- A. 以土地改革为中心
- B. 以武装斗争赢得独立
- C. 起步较晚发展迅速
- D. 普遍走社会主义道路

2. “一五”计划期间，我国工业化建设以苏联援建的 156 项重点工程为中心，实际施工的 150 项中，冶金、机械、能源工业企业分别为 20、24、52 个，化工企业 7 个，轻工和医药企业 3 个，国防工业企业 44 个。这意味着【 】

- A. 社会主义改造的完成
- B. 优先发展重工业
- C. 现代工业体系的建立
- D. 工商业的合理调整

3. 新文化运动兴起时，其指导思想与资产阶级维新派、革命派的思想相比，主要“新”在【 】

- A. 深入研究、传播了马克思主义
- B. 广泛宣传了民主共和思想
- C. 比较彻底地批判了封建正统思想
- D. 提出了“西学东渐”的主张

4. 1940 年，被德军追逼的近 40 万英、法军队，经过拼死奋战，大部分撤退到英国，保存了反攻的有生力量。该事件被称为【 】

- A. 珍珠港事件
- B. 敦刻尔克大撤退
- C. 慕尼黑阴谋
- D. 诺曼底登陆

5. 《马关条约》中，规定列强可以对华资本输出的条款是【 】

- A. 外国商船和军舰可以在长江各口岸航行
- B. 外国人可以在内地游历、经商
- C. 开放沙市、重庆、苏州、杭州为通商口岸
- D. 允许日本在通商口岸开设工厂

6. 20 世纪 60 年代初爆发了古巴导弹危机，这次危机的结局表明【 】

- A. 苏联在对抗中占优势
- B. 战略优势在美国方面
- C. 冷战的终结
- D. 美国转攻为守

7. 西周时，“一人跲（踏）耒而耕，不过十亩”；战国时，“一夫挟五口，治田百亩，岁收亩一石半，为粟百五十石”。产生这一变化的原因是【 】

- A. 商鞅变法措施的激励
- B. 井田制度的促进
- C. 铁制农具和牛耕技术的推行
- D. 农业新物种的引进

8. 19 世纪中期，俄国画家列宾创作的《伏尔加河上的纤夫》和法国画家米勒创作的《播种者》《拾穗者》，表现了劳动人民的感情和生活。这些作品的风格属于【 】

- A. 现实主义
- B. 古典主义
- C. 现代主义
- D. 浪漫主义

9. 1979 年，四川省规定：扩大试点范围，企业拥有利润提留权、扩大再生产权、联合经营权、外汇分成权、灵活使用奖金权等，把企业的责权利结合起来，把国家、集体同个人利益结合起来。这一措施旨在【 】

- A. 扩大企业经营管理自主权
B. 推动所有制结构改革
C. 吸引外资，弥补建设资金的不足
D. 改革流通体制和财政管理体制

10. 两汉时期，源于先秦的“齐人”“鲁人”“楚人”这种籍贯表述，逐渐让位于以郡国为籍贯的表述。推动这一变化的制度是【 】

- A. 藩镇制度
B. 刺史制度
C. 编户制度
D. 封国制度

11. 新航路的开辟增加了欧洲的资本积累，促进了欧洲的发展和兴旺，导致亚非拉地区逐渐沦为殖民地。17世纪初，墨西哥的印第安人人口锐减，产生这一现象的主要原因是【 】

- A. 工业革命向北美大陆的传播
B. 欧洲殖民者的扩张和掠夺
C. 资本主义世界市场的最终形成
D. 帝国主义列强对世界的瓜分

12. “几日随风北海游，回从扬子大江头。臣心一片磁针石，不指南方不肯休。”这首诗的作者最有可能是【 】

- A. 文天祥
B. 李清照
C. 岳飞
D. 王安石

13. 法国大革命沉重打击了欧洲封建势力，它的思想源自【 】

- A. 工人运动
B. 民族独立运动
C. 社会主义运动
D. 启蒙运动

14. 清初有大臣建议修缮长城，康熙帝认为：“守国之道，惟在修德安民，民心悦则邦本得，而边境自固，所谓众志成城者是也。”清代不修长城的原因是【 】

- A. 设立理藩院管理少数民族事务
B. 派驻藏大臣管理西藏事务
C. 大漠南北纳入清朝版图
D. “改土归流”成功

15. 20世纪初，欧洲的六大强国形成了协约国和同盟国两个阵营，最终【 】

- A. 导致第二次世界大战爆发
B. 共同形成了轴心国集团
C. 形成了世界反法西斯同盟
D. 引爆了第一次世界大战

16. 商朝的青铜器铸造和玉器制作十分兴盛，以出土的玉器量多、精美而闻名的考古遗址是【 】

- A. 河南虢国墓
B. 安阳妇好墓
C. 三星堆遗址
D. 二里头遗址

17. 1787年美国宪法将国家职权分为立法、司法、行政三部分，分别由国会、最高法院和总统执掌，其体现的原则是【 】

- A. 天赋人权
B. 三权分立
C. 多党合作
D. 权利平等

18. 魏源根据《四洲志》等材料，编写了著名的《海国图志》，该书的主要贡献是【 】

- A. 介绍了西方先进的科学技术
B. 批判了封建专制政治制度
C. 提出了发展工商业的思想
D. 打开了了解世界的窗口

19. 根据抗日女英雄投江故事创作并成为新中国第一部在国际上获奖的影片是【 】

- A. 《中华女儿》
B. 《赵一曼》

- C. 《钢铁战士》
- D. 《李双双》

20. 图 1 为历史上某一时期大运河的走向形势图，该时期是【 】



图 1

- A. 唐
- B. 元
- C. 明
- D. 汉

图 2 示意某气候类型分布区，图 3 示意四类（①②③④）植被景观。据此完成 21~23 题。

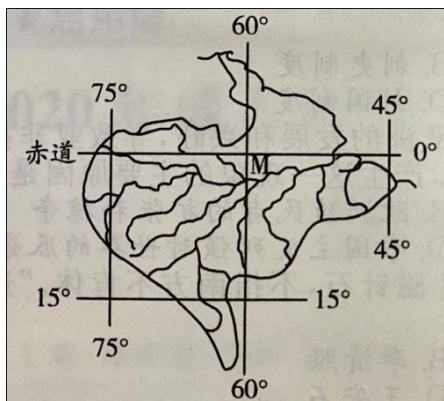


图 2




图 3

21. 在世界大河中，M 河干流【 】
- A. 流量最大
 - B. 流经的国家最多
 - C. 水能资源最丰富
 - D. 流程最长
22. 图 3 所示的植被景观中，反映该地区的地带性植被是【 】
- A. ③
 - B. ①
 - C. ④
 - D. ②
23. 该地区 7、8 月降水相对较少，这一时段应重点防范【 】
- A. 病虫害
 - B. 森林火灾
 - C. 洪涝灾害
 - D. 沙尘暴

我国某陶瓷企业与国际知名设计师合作，设计生产的产品综合了东方美学和西方新艺术装饰风格，多次获得国际大奖。经过十多年的发展，该企业产品成功进入欧美高档礼品瓷器市场，成为国际大品牌。据此完成 24~26

题。

24. 该企业在江西景德镇建立陶瓷文化产业园，考虑的主要因素是【 】

- A. 陶瓷产业知名度高
- B. 原材料丰富
- C. 游客数量多
- D. 劳动力成本低

25. 在欧洲，瓢虫是吉祥物。该企业的一个瓷品系列以大自然的瓢虫为创作主题，在欧洲广受欢迎。这说明该系列产品【 】

- A. 色彩鲜艳
- B. 顺应了当地文化需求
- C. 质量高
- D. 满足了欧洲环保要求

26. 该陶瓷企业发展壮大的主要原因是【 】

- A. 以创意和创新取胜
- B. 薄利多销
- C. 淘汰落后产能
- D. 积极争取政府补贴

构建科学合理的城乡聚落规模体系是实现城乡融合发展的重要途径。图 4 示意 1995 年和 2015 年江苏甲乙两县“城—镇—村”的聚落规模结构。据此完成 27~29 题。

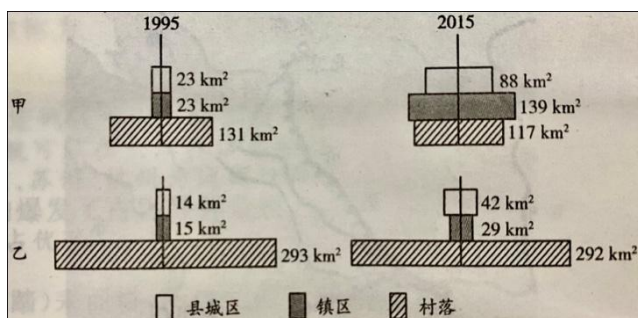


图 4

27. 1995—2015 年甲县城乡聚落规模体系演化的主要特征是【 】

- A. 聚落位置优化
- B. 城镇用地扩张
- C. 村落规模加大
- D. 聚落总量增多

28. 2015 年，与乙县相比，甲县【 】

- A. 村落面积大
- B. 镇区面积大
- C. 聚落数量多
- D. 县城区面积小

29. 推动城乡融合发展的因素主要是【 】

- ①地形
- ②人口素质
- ③耕地资源
- ④经济发展水平

- A. ②④
- B. ①③
- C. ②③
- D. ①④

图 5 为某地貌学者在野外考察时手绘的某地地质素描和地质剖面示意图。读图 5，完成 30~31 题。

30. 图中所描绘的地质构造应为【 】

- A. 背斜
- B. 地垒
- C. 向斜
- D. 地堑

31. 图示谷地的形成主要是由于【 】



图 5

- A. 河流的沉积
- B. 地壳的断裂
- C. 河流的侵蚀
- D. 地壳的沉降

天安门广场位于北京市中轴线上，北侧是天安门。图 6 是 2018 年 3 月 27 日一位小朋友向在天安门广场执勤的武警战士敬礼的照片。据此完成 32~34 题。



图 6

32. 照片拍摄时间是在当日的【 】
- A. 正午
 - B. 傍晚
 - C. 清晨
 - D. 下午
33. 该日已过二十四节气中的【 】
- A. 谷雨
 - B. 春分
 - C. 立夏
 - D. 清明
34. 该日天安门广场升国旗的时刻最接近【 】
- A. 7: 00
 - B. 6: 30
 - C. 6: 00
 - D. 5: 30

乞拉朋齐位于印度东北部卡西山地的南坡，年降水量超过 10 000 毫米（图 7），有“世界雨极”之称。卡西山地东西走向，海拔约 1 500 米，东端与缅甸西部南北向的山脉相接，构成一个宽广的向南敞开的漏斗状谷地。据此完成 35~37 题。

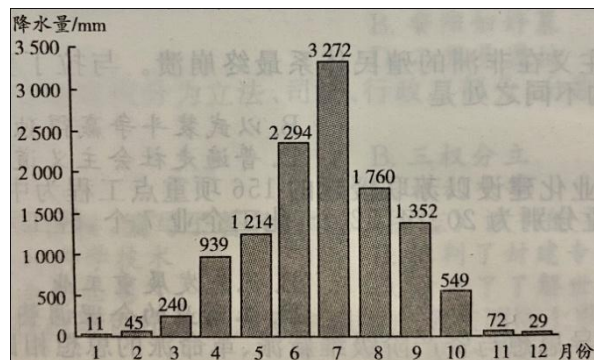


图 7

35. 给乞拉朋齐带来巨量水汽的季风是【 】
- A. 西北季风
 - B. 东南季风
 - C. 西南季风
 - D. 东北季风
36. 乞拉朋齐的降水类型主要是【 】
- A. 对流雨
 - B. 锋面雨
 - C. 地形雨
 - D. 台风雨
37. 该地区居民用水比较紧张的月份是【 】
- A. 12 月—次年 2 月
 - B. 9—11 月
 - C. 6—8 月
 - D. 3—5 月

由中国和冰岛共同建设的中冰北极科学考察站（位置见图 8）于 2018 年 10 月正式启用。这是我国在北极地区除黄河站之外的又一个综合研究基地。据此完成 38~40 题。

比较是一个国民革命的党……工人阶级尚未强大起来，自然不能发生一个强大的共产党 一个群众的党，以应目前革命之需要，因此共产国际执行委员会议决中国共产党须与中国国民党合作。

——中共三大《关于国民运动及国民党问题的议决案》

根据材料并结合所学知识，简析第一次国共合作得以实现的原因。

44. 阅读图文材料，完成下列要求。(18分)

海洋塑料垃圾污染(图9)是当今人类面临的全球性海洋环境问题，其中粒径小于5毫米的塑料纤维或颗粒称为微塑料。由于它们粒径小，被形象地比喻为海洋中的“PM2.5”。

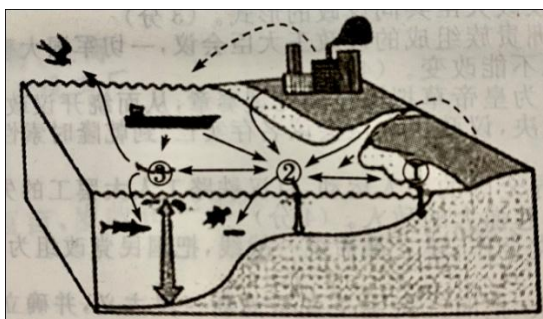


图9

(1) 根据图示信息，补充完成表1。(8分)

表1 海洋微塑料的分布和来源

	位置	来源
①	沿岸和浅海区	河流、沿海聚落和工厂
②		
③		

(2) 分析海洋微塑料数量增加对海洋生态环境的潜在危害。(5分)

(3) 列举两项减少海洋塑料垃圾的措施。(5分)

45. 阅读图文材料，完成下列要求。(17分)

1993年，泰国政府提出中老缅泰交界地区的区域经济合作“黄金四角计划”。“黄金四角”地区(图10中阴影部分)位于澜沧江—湄公河中上游，那里山高谷深林密，地势北高南低。近年来，中国倡导“黄金四角”地区与澜沧江—湄公河流域综合开发，在“中国—东盟自由贸易区”“一带一路”倡议等持续推动下，该地区经济合作取得了很大进步。

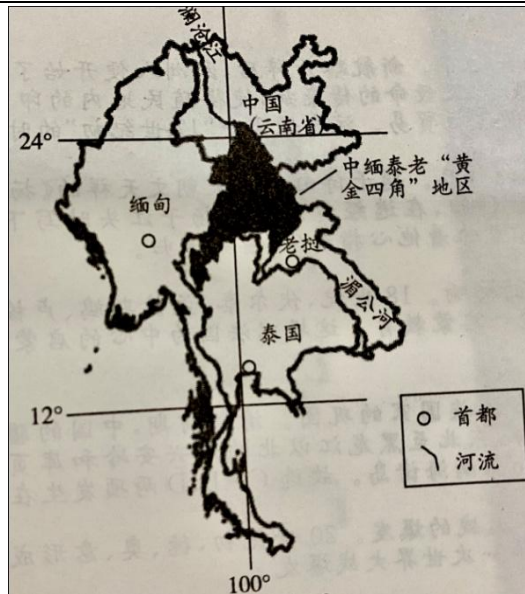


图 10

- (1) 简述开发“黄金四角”地区的有利自然条件。(6分)
- (2) 以泰国为例，说明实施“黄金四角计划”对该国发展的益处。(6分)
- (3) 阐述流域综合开发对本地区发展的重要意义。(5分)

2017 年成人高等学校招生全国统一考试——参考答案

一、选择题

- 1.C 2.C 3.B 4.C 5.A 6.B 7.C 8.A 9.C 10.B
11.C 12.A 13.A 14.D 15.B 16.A 17.D 18.B 19.D 20.D
21.B 22.C 23.C 24.A 25.B 26.B 27.D 28.D 29.C 30.A
31.C 32.D 33.C 34.C 35.C 36.C 37.D 38.A 39.B 40.D

二、非选择题

41.答案要点：（12 分）

魏晋南北朝和隋唐时期，江南农业的开发从江东扩展到整个长江流域，进而波及岭南和闽江流域。（2 分）

具体表现为：（1）江南土地大量开垦，耕作技术进步，铁农具推广和施肥技术兴起。如隋唐时期江南精耕细作技术进一步成熟，出现了曲辕犁。（3 分）

（2）农田水利兴修较多，农作物品种增多，土地利用率提高，产量提高。（2 分）

（3）南方相对安定，统治者推行劝课农桑的政策。北方农民大量南迁，为江南带来了先进的生产技术和劳动力。（3 分）

（4）北方粟麦等作物南移，使南北经济趋向平衡，为我国经济重心南移打下基础。（2 分）

42.答案要点：（12 分）

（1）基本任务：集中主要力量发展重工业，建立国家工业化和国防现代化的初步基础；相应发展交通运输业、轻工业、农业和商业；相应培养建设人才；保证在发展生产的基础上逐步提高人民的物质生活和文化生活的水平。（6 分）

（2）简要评价：“一五”计划注重从实际出发，审慎制定，有计划、按比例地发展经济，并能调动一切积极因素为经济建设服务，这都是成功经验；优先发展重工业也导致轻工业和农业发展速度放慢，影响人民生活改善。（6 分）

43.答案要点：（11 分）

（1）美国：威尔逊提出“十四点和平计划”，企图获取战后世界领导权。（3 分）

（2）英国：实行“势力均衡”政策，维护庞大的殖民帝国利益。（3 分）

（3）法国：最大限度地削弱德国，重建欧洲大陆霸权，收回阿尔萨斯和洛林。（3 分）

（4）日本：企图使它战时从德国手里获取的权益合法化。（2 分）

44.答案要点：（18 分）

（1）河北省赵县汶河属于海河流域。海河流域属暖温带半干旱、半湿润季风气候。海河流域降水的年内分配不均，季节分配不均匀，夏季降水多以暴雨的形式降落。（6 分）

（2）泄洪：减轻洪水（来袭时对桥梁的冲击力，同时减轻了桥身的重量）。（6 分）

（3）采用先进的科学技术，对古建筑的原状进行修复与保护；适度开发其旅游资源，将古建筑的历史文化内涵进行完整的传承与表达。（6 分）

45.答案要点：（17 分）

(1) 阿塞拜疆气候呈多样化特征，具有温带大陆性气候特点，首都巴库紧邻里海，冬季温暖，全年降水偏少。(4分)

(2) 根据图 9 中的石油标记可推知，石油是是巴库的经济命脉，巴库以石油、天然气开采和石油加工为主要工业，应该还有石油机械、电力和轻工业、食品工业等工业部门。(4分)

(3) 国内政局稳稳定；油气资源丰富；阿塞拜疆是丝绸之路沿线的重要国家，里海地区是连接欧亚大陆的重要枢纽和贸易通道；外商投资者可享国民待遇，部分情况下可享受有限度的税收优惠。(9分)

2018 年成人高等学校招生全国统一考试——参考答案

一、选择题

1.B 2.B 3.C 4.C 5.C 6.A 7.D 8.C 9.D 10.B
11.B 12.D 13.A 14.B 15.A 16.C 17.B 18.D 19.B 20.A
21.B 22.A 23.C 24.A 25.C 26.D 27.C 28.B 29.B 30.A
31.C 32.D 33.D 34.C 35.D 36.A 37.C 38.C 39.A 40.D

二、非选择题

41.答案要点：（11 分）

（1）战国问世、西汉编定的《黄帝内经》是我国现存较早的重要医学文献，它奠定了我国医学的理论基础。（2 分）

（2）东汉的《神农本草经》是我国第一部完整的药物学著作。（3 分）

（3）东汉末年著名医学家张仲景著有《伤寒杂病论》一书，他在书中全面阐释了中医理论和治病原则，奠定了中医治疗学的基础。（3 分）

（4）东汉末年著名医学家华佗，他擅长针灸和外科手术，制成一种麻醉药剂，叫“麻沸散”。华佗是世界上最早采用全身麻醉方法基的医生，他还创制了“五禽戏”。（3 分）

42.答案要点：（12 分）

党的十一届三中全会实现了新中国成立以来历史性的伟大转变。（2 分）随着改革开放的深入，我国首先在条件较好的东南沿海地区实行了对外开放，（4 分）并逐步形成了“经济特区-沿海开放城市-沿海经济开发区-内地”这样一个多层次、有重点、点线面结合的全方位对外开放格局。（6 分）

43.答案要点：（12 分）

（1）普鲁士封封建农奴又制的改革。（2 分）

（2）德意志资本主义经济的长足发展，为统一民族国家的建立奠定了经济基础。（2 分）

（3）普鲁士工业的发展带动了军事力量的提升，拥有强大的军队。（2 分）

影响：经济发展，军事力量的壮大，为德意志的统一奠定基础。（6 分）

44.答案要点：（17 分）

（1）洞里萨湖适合通航的时间为 6-10 月。对于内河航运，首先要考虑水深条件是否能顺利通航。由材料可知，这里属于东南亚地区，是热带季风气候，湖 1 白水深季节变化大，河道水深也会有季节变化。所以通航最佳时间应在雨季，河道水深的时间。洞里萨湖位于北半球，雨季在 6-10 月，河流水量大，是通航的最佳时间。（6 分）

（2）洞里萨湖与湄公河相连，雨季，洞里萨湖水位可上涨 10 米，湖面超过 1 万平方千米；旱季，洞里萨湖水深约 1 米。这样就导致流域内居民受到湖水上涨的影响，居民以高架木屋为主，适应湖水涨落，利于搬迁。（5 分）

（3）属热带季风气候，气候湿热，夏季降水丰富；土壤肥沃；临近水源，灌溉条件良好。（6 分）

45.答案要点：（18 分）

(1) 地中海气候的特点：夏季炎热干燥，冬季温和多雨。(6分)

(2) 有利条件：距海远，有高岭山阻挡，光照充足。地处亚热带，冬季温和，夏季高温。位于河谷地带、热量充足。不利条件：年降水量偏少。(6分)

(3) ①该地区除雨型不同、年降水量偏少外，其他气象要素都与世界油橄榄主产区的地中海沿岸国家相似，是中国油橄榄优先发展的优势区域。②该地处于坡度不大的山区，荒坡较多，并且有一定的水利条件，适建种植园。③陇南临近陕西和四川，有大量的劳动力。④政府扶持和技术支撑。(6分)

2019 年成人高等学校招生全国统一考试——参考答案

一、选择题

1.B 2.D 3.B 4.C 5.D 6.D 7.B 8.A 9.C 10.C
11.C 12.C 13.B 14.A 15.A 16.D 17.B 18.A 19.B 20.D
21.D 22.C 23.B 24.B 25.D 26.B 27.D 28.A 29.D 30.B
31.D 32.B 33.A 34.A 35.B 36.D 37.D 38.B 39.A 40.C

二、非选择题

1. 答案要点：（12 分）

（1）孟子的主要思想：“性善论”是孟子谈人生和谈政治的理论根据，这在他的思想体系之中是一个中心环节；民本思想是孟子思想的精华，孟子认为君主应以爱护人民为先，为政者要保障人民权利；“仁政”是孟子政治思想的核心，是对孔子“仁学”思想的继承和发展，大部分内容源于民本思想。（6 分）

（2）韩非子的主要思想：韩非子继承和总结了战国时期法家的思想和实践，提出了君主专制中央集权的理论；对于民众，要以法来约束民众，施刑于民；对于政治，韩非主张改革和实行法治。（6 分）

42. 答案要点：（12 分）

（1）基本过程：1931 年 9 月 18 日夜，在日本关东军安排下，铁道“守备队”炸毁沈阳柳条湖附近的南满铁路路轨，并栽赃嫁祸于中国军队。日军以此为借口，炮轰沈阳北大营。（6 分）

（2）简要评析：“九一八事变”是日本帝国主义长期以来对华侵略扩张政策的必然结果，也是企图把中国变为其独占殖民地而采取的重要步骤。它同时标志着世界反法西斯战争的开始，揭开了第二次世界大战东方战场的序幕。（6 分）

43. 答案要点：（11 分）

（1）爆发的原因：领土的扩张加剧了南北两种经济制度之间的矛盾；废奴运动推动了战争的爆发；对联邦政府控制权的争夺加剧了南北既存的矛盾。（6 分）

（2）南北战争的影响：南北战争摧毁了奴隶制，但较好地解决了农民的土地问题。它是美国历史上第二次资产阶级革命，维护了国家统一，为美国资本主义的加速发展扫清了道路，并为美国跻身于世界强国之列奠定了基础。（5 分）

44. 答案要点：（17 分）

（1）山高谷深，地形起伏大，东西交通不便；地质破碎，多滑坡、泥石流；冬季大雪封山，独龙江与外界联系中断；北高南低，河流流速快，水运不便。（5 分）

（2）水冬瓜生长迅速，涵养水源和保持水土能力强；大量落叶，提供土壤肥力；根瘤菌发达，固氮能力强，提高土壤肥力；采用轮作和休耕方式，可以让土地得以恢复；还可以防止杂草丛生和病虫害问题。（6 分）

（3）改善当地的交通条件，便于与外界联系；大力发展绿色生态农业；延长农业产业链，增加产品附加值。（6 分）

45. 答案要点：（18 分）

（1）北京是典型的温带季风气候，夏季炎热多雨，冬季寒冷干燥。（6 分）

(2) 春秋季节森林景观多落叶，夏季枝繁叶茂。(2分)原因：春季气温回升快，昼夜温差大。干旱多风沙；入秋后，北方冷空气开始入侵，降温迅速，枯枝落叶多；夏季气温高，降水集中，雨热同期，利于树木生长。

(4分)

(3) 赞成，合理保留落叶和荒草可以作为自然景观的一部分，供人们欣赏；而且落叶和荒草可以当作养料给土壤提供营养。或不赞成，保留落叶和荒草会给城市环卫工作加重负担；破坏城市景观，易形成脏、乱、差现象。(言之有理即叮)(6分)

2020年成人高等学校招生全国统一考试——参考答案

一、选择题

1. C 2. B 3. C 4. B 5. D 6. B 7. C 8. A 9. A 10. D
11. B 12. A 13. D 14. C 15. D 16. B 17. B 18. D 19. A 20. A
21. A 22. D 23. B 24. A 25. B 26. A 27. B 28. B 29. A 30. A
31. B 32. D 33. B 34. C 35. C 36. C 37. A 38. B 39. C 40. C

二、非选择题

41. 答案要点：（12分）

- （1）目的：反对殖民主义，保卫和平，维护民族独立，发展民族经济，进行友好合作。（4分）
（2）倡导的基本原则：①和平共处五项原则，即互相尊重主权和领土完整，互不侵犯，互不干涉内政，平等互利，和平共处。（4分）②“求同存异”方针，“同”指共同的历史遭遇、现实问题、目的等，“异”指不同的社会制度、意识形态、建设道路等。（4分）

42. 答案要点：（11分）

- （1）议政王大臣会议的制度源于努尔哈赤晚期设立的五大臣议政王佐理国事制度，后发展为清王朝宗室贵族中的王与八旗固山额真、议政大臣共同议政的形式。（3分）
（2）清朝初期保留着专门由满洲贵族组成的议政王大臣会议，一切军国大事都要经过议政王大臣会议讨论，而且一旦做出决定，连皇帝也不能改变。（4分）
（3）康熙时设立了南书房，直接为皇帝草拟谕旨和处理奏章，从而绕开议政王大臣会议。雍正年间设立了军机处，军国大事完全由皇帝裁决，议政王大臣会议名存实亡，到乾隆时索性被撤销。（4分）

43. 答案要点：（12分）

- （1）中国共产党成立后集中领导全国的工人运动，京汉铁路工人大罢工的失败使中国共产党认识到，必须团结一切可能的同盟者，才能战胜强大的敌人。（4分）
（2）中共三大正式决定与国民党合作，建立革命统一战线，把国民党改组为工人、农民、小资产阶级和民族资产阶级的革命同盟。（4分）
（3）孙中山主持召开国民党一大，把旧三民主义发展为新三民主义，并确立了联俄、联共、扶助农工三大政策。新三民主义成为第一次国共合作的政治基础。（4分）

44. 答案要点：（18分）

- （1）②半深海区（2分）浅海区、河流、工厂和船舶（2分）
③深海区（2分）半深海区和船舶（2分）
（2）影响海洋生物的生长与繁殖；破坏海洋水质；影响海洋的自净能力。（5分）
（3）定期进行海上塑料垃圾打捞；加强宣传，提高沿海地区人们保护海洋的意识；制定更完善的海洋保护规定。（5分）

45. 答案要点：（17分）

- （1）位于低纬度地区，地处热带、亚热带，水热条件充足；山水相连，有澜沧江 湄公河天然水道，水

运便利；有丰富的（土地、矿产、生物、水能等）自然资源。（6分）

（2）有利于与周边国家的边境贸易合作；修筑了中泰之间的铁路，促进了中泰之间的合作；利用澜沧江—湄公河流域丰富的矿产资源、水力、劳力及土地优势，促进经济发展。（6分）

（3）进行交通、通信等基础设施建设，完善了水陆交通网络；澜沧江—湄公河中上游的水土资源得到开发，转资源优势为经济优势；跨境旅游发展；（边境贸易）经贸合作等。（5分）